



# 聖公會靈愛小學

## 試題樣本

2021-2022 年度

上學期考試

一年級 數學科

(作答時間:45 分鐘)

姓名: \_\_\_\_\_ ( )

班別: 一年級 \_\_\_\_\_ 班


日期: 2022 年 1 月 18 日


家長簽署: \_\_\_\_\_ 不適用


數	/68
圖形與 空間	/32
總分	
調整分	

甲. 數


一. 數一數下列各物件的數量。(6% @2%)



1.  有  隻。

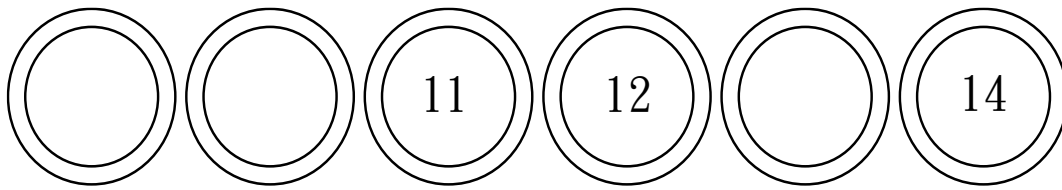
2.  有  個。

3.  比  多  個。



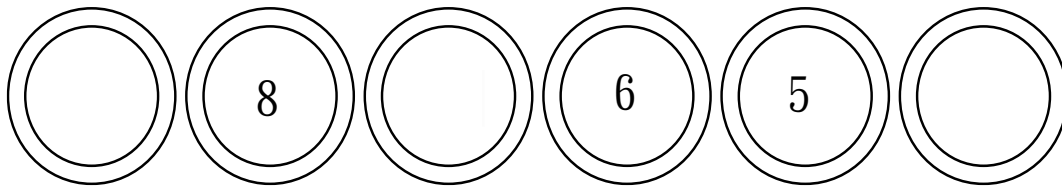
二. 依規律，填上適當的數，並圈出規律。(8% @4%)

1.




這是 ( 順數 / 倒數 )

2.



這是 ( 順數 / 倒數 )



三. 把每行不同類物件的排列次序(由左方數起)填在□內。


(6% @2%)

1.



第

2.

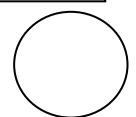


第


3.



第




四. 把以下物件一對一連起來比較，圈出及填上答案。(4% @2%)



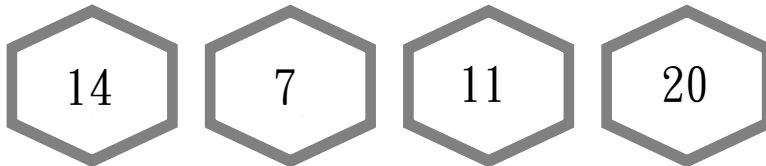
1.  比  (多 / 少)  個。

2.  比  (多 / 少)  個。



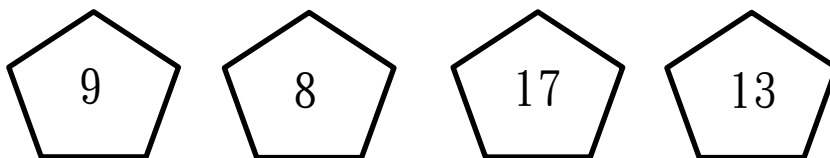
五. 比大小。(4% @2% 全對才給分)

1. 把以下各數由大至小排列。




>  >  >


2. 把以下各數由小至大排列。



<  <  <



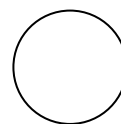
六. 8 位學生正在等巴士。(6% @2%)



1. 芷晴排第  。

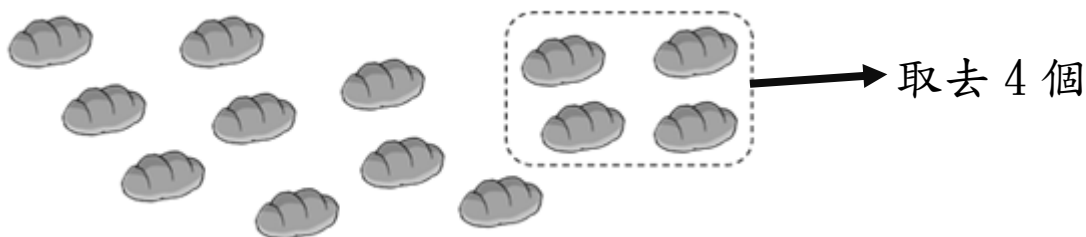
2. 排在小志後面的有  位學生。

3. 最前的 3 人離開了。現在，芷晴排第  。




七. 依題意，寫出算式及答案。(6% @3%)

1.

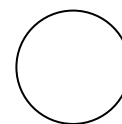


$$\square \bigcirc \square = \square$$

2.



$$\square \bigcirc \square = \square$$



八. 計算下列各題，把答案填在□內。(16% @2%)

1.  $7 + 3 = \square$

2.  $\square + 6 = 11$

3.  $16 - 8 = \square$


4.  $3 + \square = 9$

5.  $10 + \square = 17$

6.  $20 - \square = 20$

7.  $12 - \square = 3$


8.  $\square - 9 = 1$






九. 小心看清楚題目，然後列式計算下列各應用題。(12% @4%)

1. 一仁班有  5 隻，一信班有  9 隻，兩班共有  多少隻？

$$\begin{aligned} & \text{_____} \\ = & \text{_____} \end{aligned}$$

兩班共有   隻。

2. 媽媽買了  11 個，弟弟吃了  3 個，還有  多少個？


$$\begin{aligned} & \text{_____} \\ = & \text{_____} \end{aligned}$$

還有   個。

3. 體育室有  18 個， 7 個， 比  多幾個？


$$\begin{aligned} & \text{_____} \\ = & \text{_____} \end{aligned}$$

 比  多  個。




## 乙. 圖形與空間

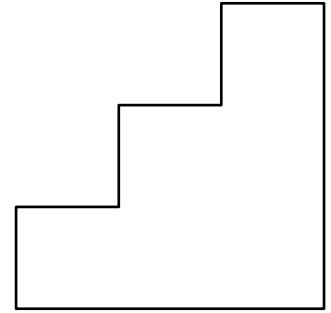
一. 依指示，在\_\_上寫出所有代表正確答案的英文字母。  
(12%@2%)




A



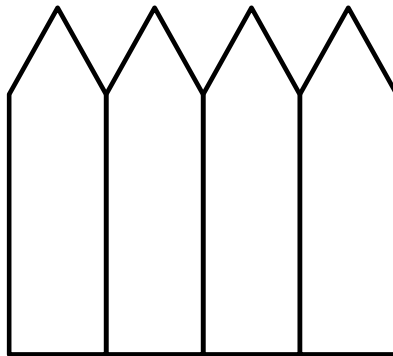
B



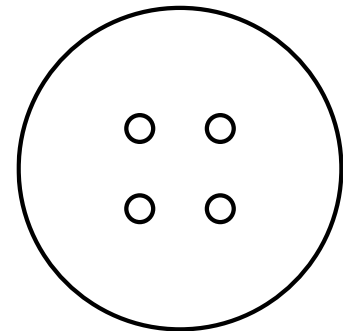
C



D



E




F

1. 只用直線組成的圖形 : \_\_\_\_\_

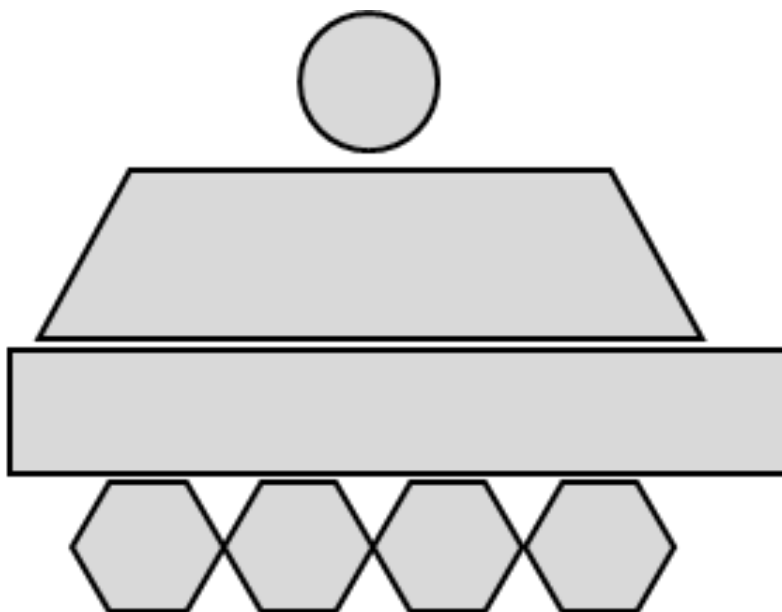
2. 只用曲線組成的圖形 : \_\_\_\_\_

3. 用直線和曲線組成的圖形: \_\_\_\_\_





二. 數一數以下各平面圖形的數量，把答案填在□內。(6% @2%)



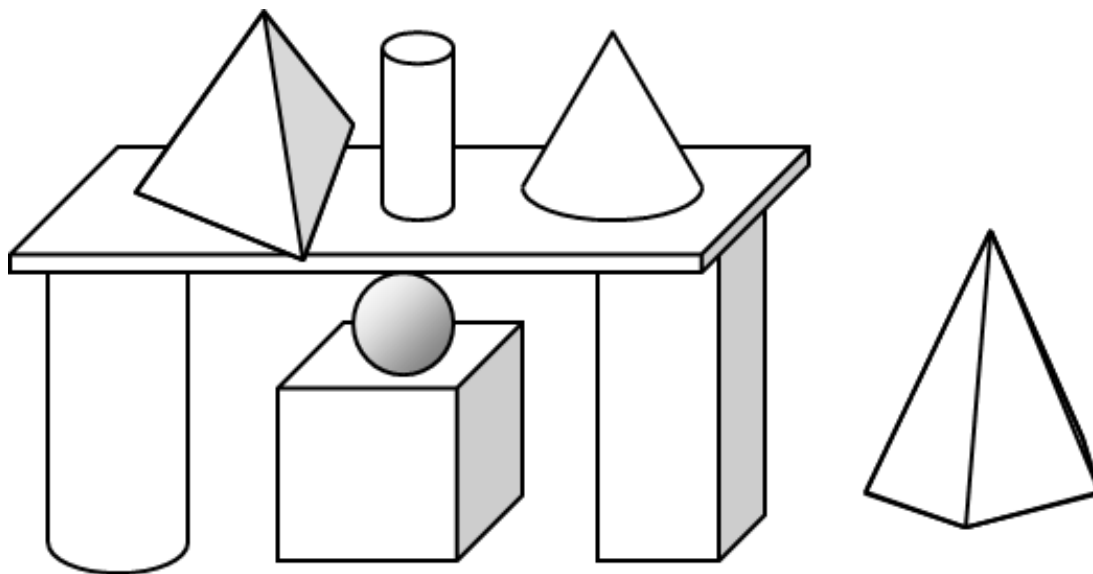
上圖有：

1. 四邊形  個，

2. 六邊形  個，

3. 圓形  個。

三. 數一數以下各立體圖形的數量，把答案填在□內。(8% @2%)



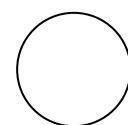
上圖有：

1. 角柱  個，

2. 圓柱  個，

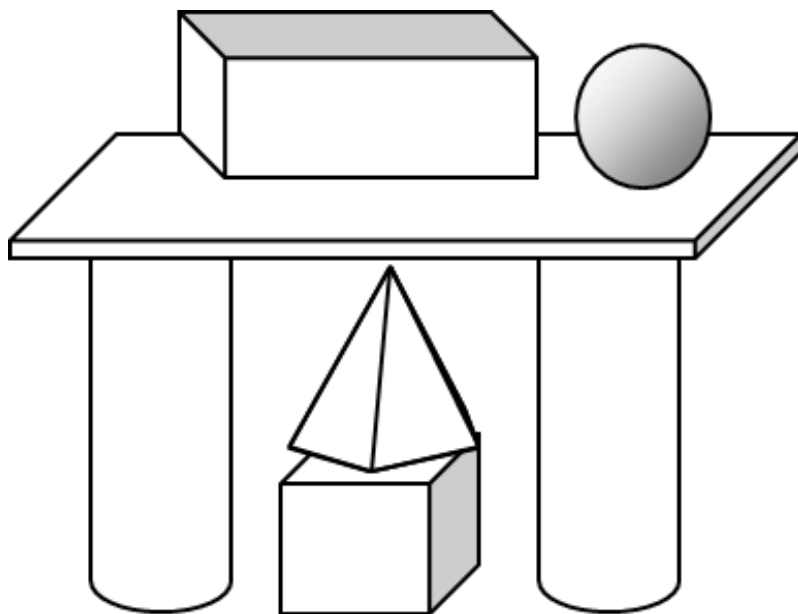
3. 角錐  個，



4. 球  個。

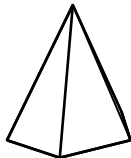



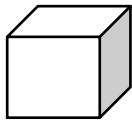

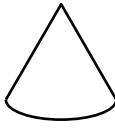
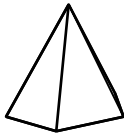
四. 看看以下的立體圖形，在□內填上「上」、「下」、「左」、「右」、「前」、「後」或「之間」來表示各立體圖形的位置。

(6% @2%)



1.  在  的  面。

2.  在  的  面。

3.  的上面是 (  /  /  )。

全卷完

